



**UNIVERSIDADES PÚBLICAS DE LA COMUNIDAD DE MADRID**  
PRUEBA DE ACCESO A LAS ENSEÑANZAS UNIVERSITARIAS  
OFICIALES DE GRADO  
Curso **2009-2010**  
**MATERIA: GEOGRAFÍA**

FASE  
GENERAL

**INSTRUCCIONES Y CRITERIOS GENERALES DE CALIFICACIÓN**

Dispone de dos opciones para contestar (A y B). **Debe escoger exclusivamente una de ellas.** La puntuación total será, en ambas pruebas, de **10 puntos**, correspondiendo a la primera parte **1'5 puntos**; a la segunda, **4 puntos**; a la tercera, **2'5 puntos**, y a la cuarta, **2 puntos**.

**TIEMPO:** Una hora y treinta minutos

**OPCIÓN A**

**1ª Parte**

Defina, en el cuadernillo adjunto, **seis** de los siguientes términos o conceptos geográficos, utilizando como máximo una cara del cuadernillo:

**Densidad de población, F.E.O.G.A., Agroindustria, Bosque caducifolio, Caladero, Inmigración, Canchal, Anticlinal.**

*Puntuación máxima: 1,5 puntos.*

**2ª Parte**

Tema: **“Los Pirineos”**.

Desarrolle, de manera sintética, el tema propuesto (utilice, como máximo, ambas caras de un folio). Como indicativos se señalan los siguientes epígrafes:

- Características generales del relieve.
- Estructura geológica.
- El modelado glaciar.
- Ocupación antrópica.

*Puntuación máxima: 4 puntos.*

**3ª Parte**

**Comentario de la fotografía adjunta:**

Comente el paisaje de la lámina adjunta, atendiendo, al menos, a:

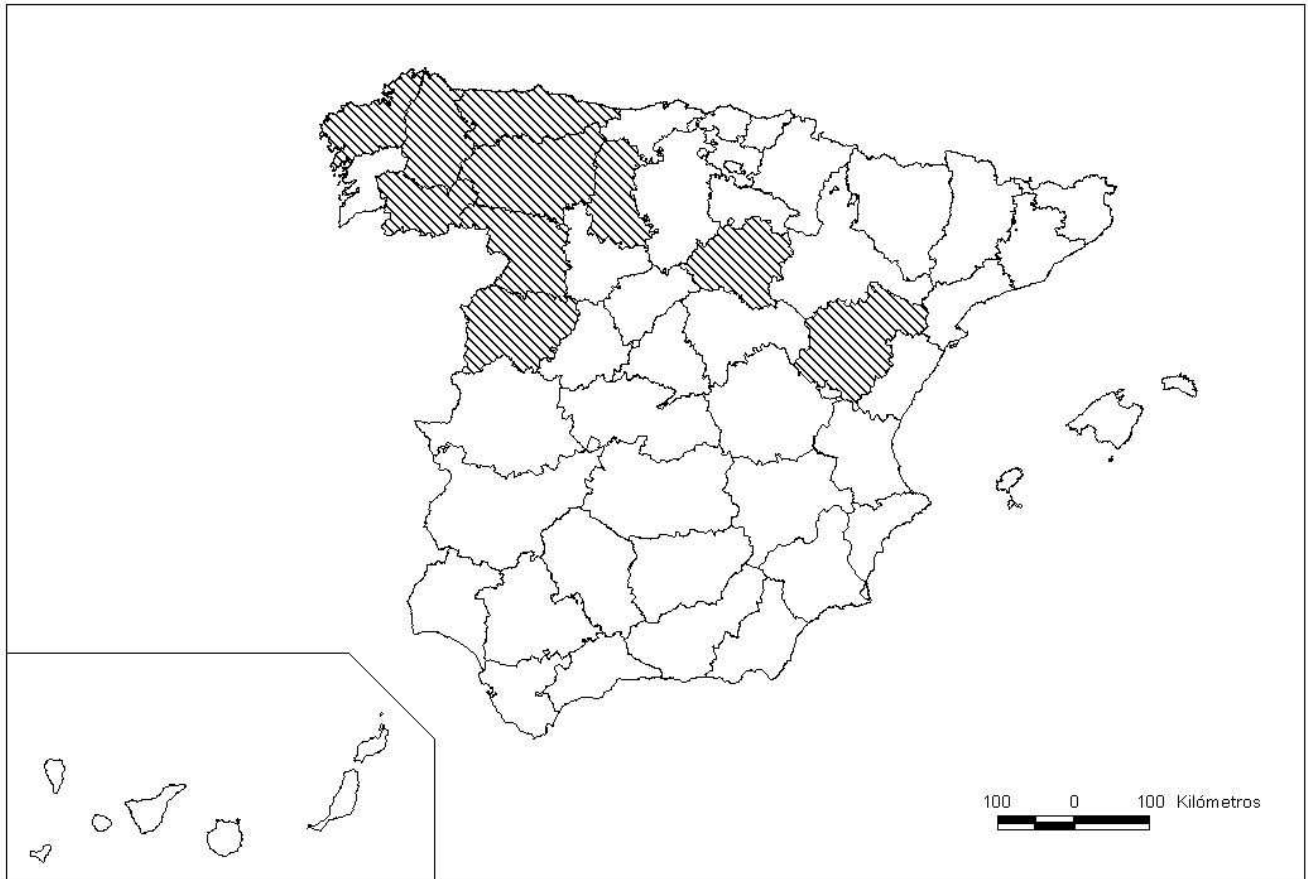
- a) Unidades morfológicas del paisaje.
- b) Las transformaciones recientes del mismo.
- c) Manifestaciones espaciales de las actividades económicas y del poblamiento.

*Puntuación máxima: 2,5 puntos.*

#### 4ª Parte

A la vista del mapa adjunto, “*Provincias con Tasa Bruta de Mortalidad superior al 10,8% (Media Nacional 8,4%)*”, señale dichas provincias tramadas y comente los motivos fundamentales que concurren en esta situación. Explique las consecuencias derivadas de este fenómeno.

*Puntuación máxima: 2 puntos.*



#### OPCIÓN B

#### 1ª Parte

Defina, en el cuadernillo adjunto, **seis** de los siguientes términos o conceptos geográficos, utilizando como máximo una cara del cuadernillo:

**Riada, Conurbación, Terrazas aluviales, Acuicultura, Comisión Europea, Reconversión industrial, Tasa de fecundidad general, Energía nuclear.**

*Puntuación máxima: 1,5 puntos.*

#### 2ª Parte

Tema: “*La ganadería en España*”.

Desarrolle, de manera sintética, el tema propuesto (utilice, como máximo, ambas caras de un folio). Como indicativos se señalan los siguientes epígrafes:

- La cabaña ganadera española.
- Su evolución a lo largo del siglo XX y en los prolegómenos del XXI.
- Nuevos sistemas ganaderos.
- Consecuencias en el sector de la aplicación de la P.A.C.

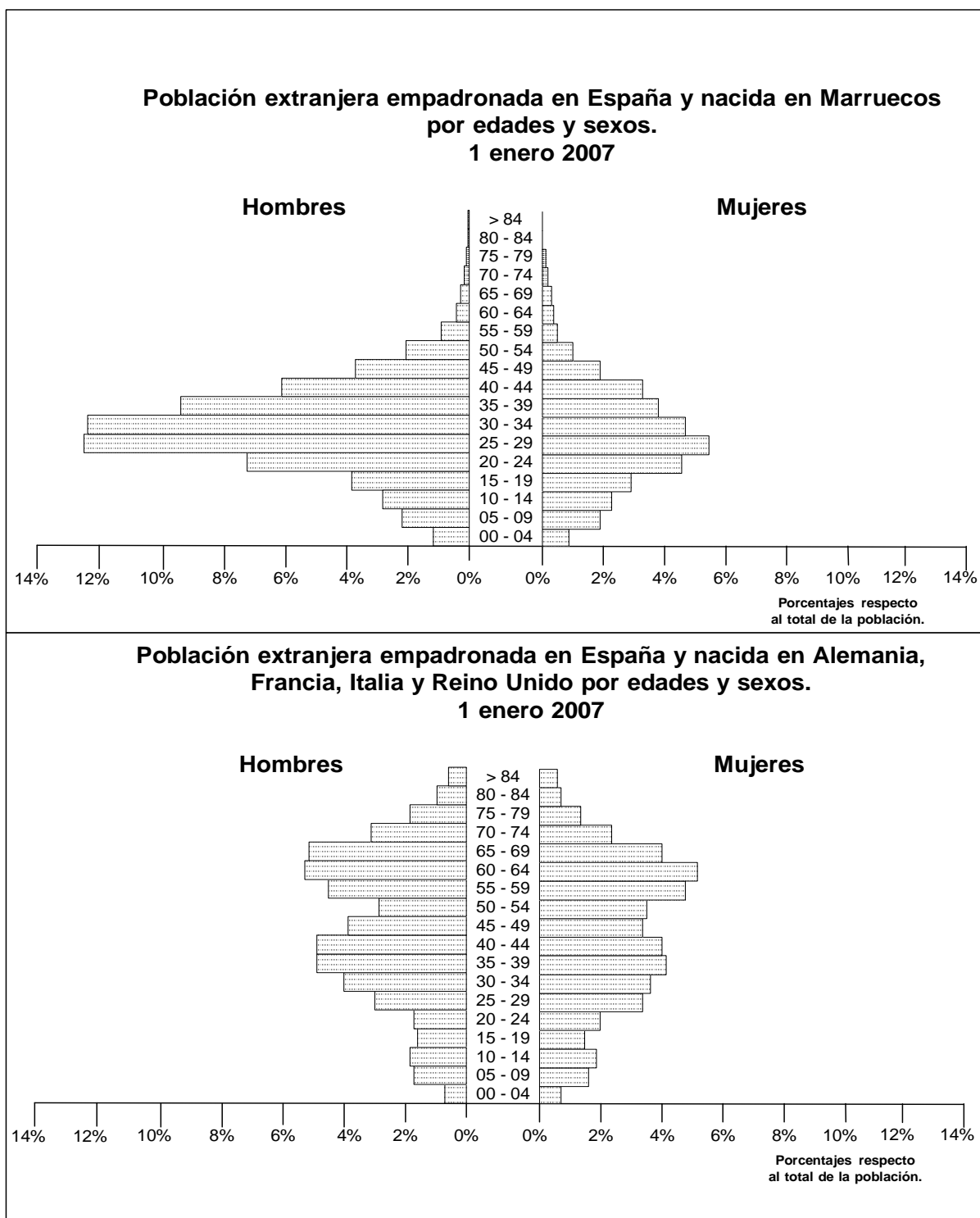
*Puntuación máxima: 4 punto.*

### 3ª Parte

**Comentario del gráfico:** Realice un comentario de los gráficos adjuntos: “*Estructura por sexo y edad de la población extranjera empadronada en España y nacida en el extranjero, enero 2007*”, atendiendo al menos a:

- Interpretación individualizada de cada una ellas.
- Comparación entre ambas.
- Causas que explican las diferencias entre ambas estructuras y consecuencias socioeconómicas y demográficas del hecho.

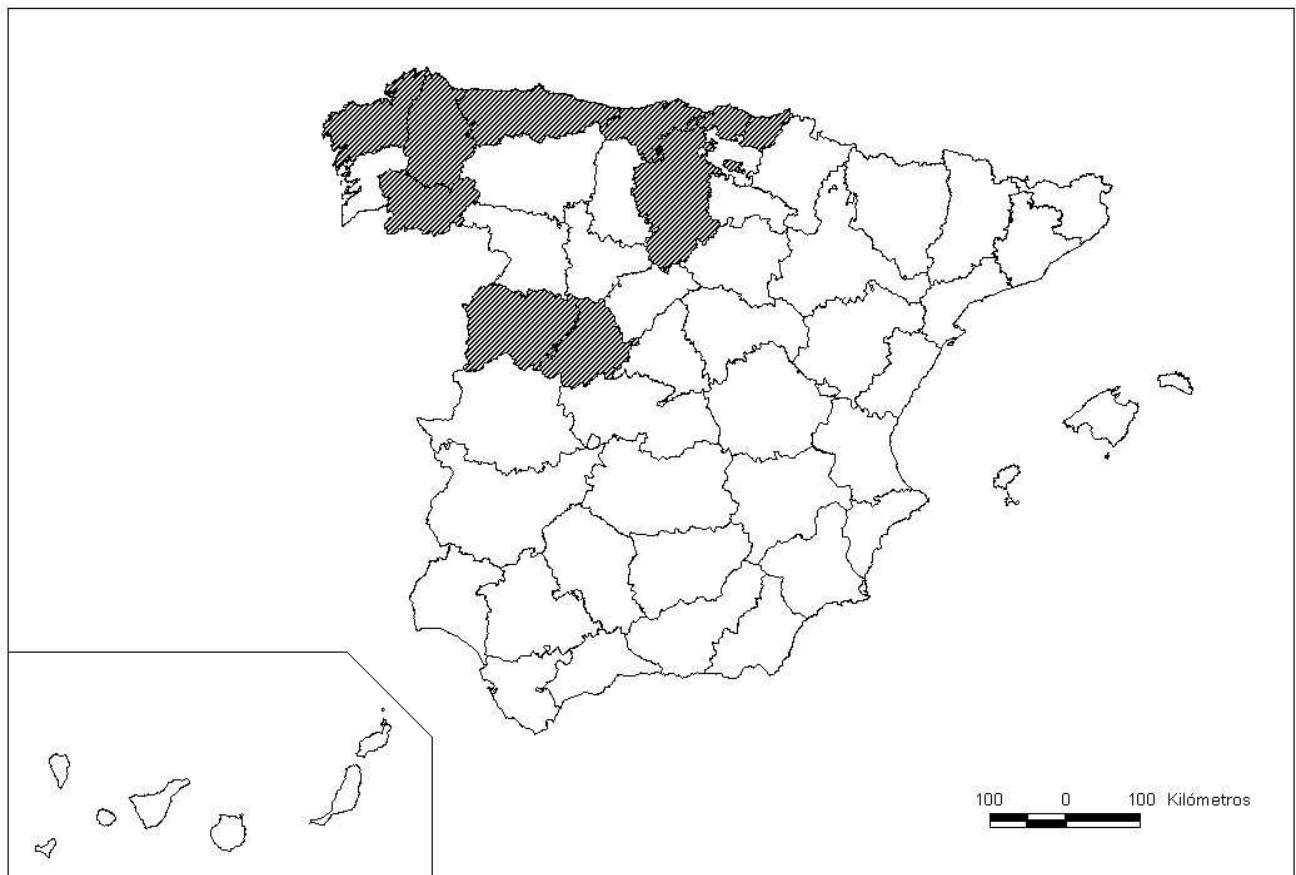
Puntuación máxima: 2,5 puntos.



#### 4ª Parte

A la vista del mapa adjunto, “*Provincias en las que más del 7,53% de su superficie total son prados naturales (media nacional: 2,92%)*”, indique el nombre de las provincias “tramadas” pertenecientes a dicha categoría; argumente las razones que explican esta distribución y exponga algunas consecuencias que se puedan derivar.

*Puntuación máxima: 2 puntos.*



## GEOGRAFÍA

### CRITERIOS ESPECÍFICOS DE CORRECCIÓN Y CALIFICACIÓN

La estructura y los criterios de corrección serán los siguientes, tanto para la **Opción A** como para la **Opción B**.

**1ª. Primera parte:** *1,5 puntos* (cada término o concepto: *0,25 puntos*).

*Definición de una serie de términos geográficos y conceptos.* Las respuestas deberán valorarse con un criterio amplio, ya que son numerosas las posibilidades expresivas correctas. En todo caso, se atenderá a la precisión geográfica en la caracterización del término o concepto, y a la claridad conceptual.

**2ª. Primera parte:** *4 puntos*

Trata del “*desarrollo de un tema*”, valorando fundamentalmente la ordenación, la estructuración, la coherencia expositivo-argumentativa; la claridad, la precisión y la organización sintética de los conocimientos, junto con la correcta localización, la comprensión y caracterización de los fenómenos geográficos que se suman al grado y profundidad de los conocimientos.

**3ª. Primera parte:** *2,5 puntos*

Propone “*el comentario de un documento geográfico*”.

\* Opción A: “*Comentario de una lámina*”. Se valorará positivamente la existencia de una metodología de comentario de fotografías. **Alarcón (Cuenca)**.

\* Opción B: “*Comentario de un instrumento gráfico*”. Se valorará la capacidad de extraer información, analizar los datos y caracterizar la situación, en una relación causa-efecto. “*Estructura por sexo y edad de la población extranjera empadronada en España y nacida en el extranjero, enero 2007*”,

**4ª. Primera parte:** *2 puntos*

Presenta unos *mapas* cuyo comentario tiene una puntuación máxima de **2 puntos**; en ellos debe atenderse a la correcta localización y caracterización de los elementos solicitados.

Opción A: **La Coruña, Lugo, Orense, Asturias, León, Palencia, Zamora, Salamanca, Soria, Teruel.**

Opción B: **La Coruña, Lugo, Orense, Asturias, Cantabria, Vizcaya, Guipúzcoa, Burgos, Salamanca, Ávila.**

En las cuatro partes de que consta la prueba, se considerarán elementos de ponderación; v.gr.: la calidad de la redacción, la corrección expositivo-argumentativa, la gramatical y la ortográfica.

